



Historia

1ro Básico



The background features several abstract shapes and patterns. In the top left, there's a large orange shape with a yellow circle above it. To the right, there are horizontal orange lines of varying lengths. At the bottom, there's a yellow shape with a dark brown shape above it, and some white dashed lines. On the left side, there are dark brown wavy lines.

El lugar en que vivimos

Chile en el mapa

Historia

¿Qué haremos en esta Unidad?

OA9 -Identificar a Chile en mapas, incluyendo la cordillera de los Andes, el océano Pacífico, la ciudad de Santiago, su región, su capital y su localidad.

OA10 -Observar y describir paisajes de su entorno local, utilizando vocabulario geográfico adecuado (país, ciudad, camino, pueblo, construcciones, cordillera, mar, vegetación y desierto) y categorías de ubicación relativa (derecha, izquierda, delante, detrás, entre otros).



¿Qué evaluaremos de lo aprendido en esta unidad?

- ✓ **Localizan y colorean Chile en un mapamundi.**
- ✓ **Ubican y colorean la cordillera de los Andes y el océano Pacífico en un mapa de Chile.**
- ✓ **Nombran su región y su capital regional.**
- ✓ **Nombran la capital de Chile.**
- ✓ **Identifican algunas características naturales del paisaje en imágenes.**
- ✓ **Nombran algunas características naturales de distintos paisajes utilizando correctamente vocabulario geográfico.**

Calendarización

Lunes	Martes	Miércoles	Jueves	Viernes
5 Octubre	6	7	8	9
Clase 1 Bitácora				
12	13	14	15	16
Clase 2 Bitácora				
19	20	21	22	23
Clase 3 Bitácora				
26	27	28	29	30
Evaluación Formativa				

Clase 1


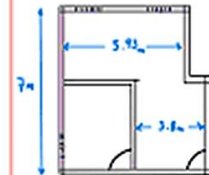
Fecha: Semana del 5 de Octubre.

Objetivo de la clase: Identificar qué es un mapa y para qué sirve.

Mapa



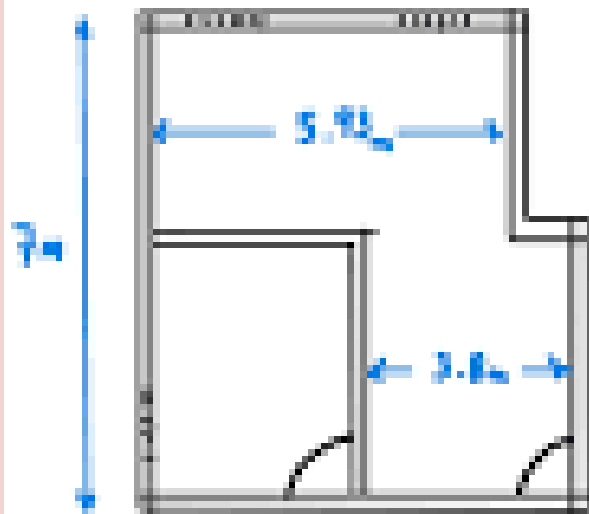
Plano



Mapa



Plano




Te invitamos a que observes el siguiente video para descubrir a Chile en un Mapa.



https://www.youtube.com/watch?v=xZLP4i_W_UM

Al finalizar el video preguntar:

1. ¿ Podemos hacer un plano de un país?
2. ¿Qué nos muestran los mapas?





Un Mapa es una representación geográfica de un territorio o lugar, y sirve para ubicar continentes, países o regiones

¿Qué es un mapa?

¿Para qué nos sirve?



Actividad 1

Desarrollar páginas 82 y 83 del texto del estudiante de Historia y escribe tus respuestas en tu cuaderno.

En caso de no tener el libro. Lo puede descargar con el siguiente link:

https://www.curriculumnacional.cl/614/articles-145457_recurso_pdf.pdf

LECCIÓN 2

¿Qué es y para qué sirve un mapa?

Un mapa representa un territorio o lugar y sirve para ubicar continentes, países o regiones.



- 1 ¿Qué representa este mapa?
- 2 ¿Cuántos continentes crees que existen?

Desarrollar páginas 82 y 83 del texto del estudiante de Historia y escribe tus respuestas en tu cuaderno.

En caso de no tener el libro. Lo puede descargar con el siguiente link:

https://www.curriculumnacional.cl/614/articles-145457_recurso_pdf.pdf



Clase 2

Fecha: Semana del 12 de Octubre.

Objetivo de la clase: Identificar el océano Pacífico y la cordillera de los Andes en el mapa.




Te invitamos a que observes el siguiente video para descubrir a Chile en el mapa.



<https://www.youtube.com/watch?v=Qoggqvuw87E>

Al finalizar el video preguntar:

1. ¿Qué nos muestran los mapas?
2. ¿En qué continente vivimos?
3. ¿Qué característica tiene Chile en el mapa?



Nuestro continente es:

América del Sur

Chile tiene países
vecinos.

Encontrando:

- Al norte de Chile:
Perú
- Al este:
Bolivia y Argentina.
- Al Oeste:
El Océano Pacífico.



Actividad 1

Desarrollar páginas 84, 85 y 86 del texto del estudiante de Historia y escribe tus respuestas en tu cuaderno.

En caso de no tener el libro. Lo puede descargar con el siguiente link:

https://www.curriculumnacional.cl/614/articulos-145457_recurso_pdf.pdf

Chile en los mapas

Chile se encuentra ubicado en el hemisferio sur y pertenece al continente americano.



* Acuerdo de 1998 | Mapa: fuente editorial

- 1 ¿Qué océanos ves en el mapa?
- 2 ¿Qué hay a la izquierda de Chile?

Desarrollar páginas 82, 83, 84, 85 y 86 del texto del estudiante de Historia y escribe tus respuestas en tu cuaderno.

En caso de no tener el libro. Lo puede descargar con el siguiente link:

https://www.curriculumnacional.cl/614/articles-145457_recurso_pdf.pdf



* Acuerdo de 1998 | Mapa: fuente editorial

- 3 ¿Qué forma tiene Chile?
- 4 ¿Qué países son vecinos de Chile?

LECCIÓN 2

Chile tiene 16 regiones, cada una con características únicas.

Desarrollar páginas 82, 83, 84, 85 y 86 del texto del estudiante de Historia y escribe tus respuestas en tu cuaderno.

En caso de no tener el libro. Lo puede descargar con el siguiente link:

https://www.curriculumnacional.cl/614/articulos-145457_recurso_pdf.pdf



Desierto de Atacama.



Chiloé.



* Acuerdo de 1998

- 1 ¿Cuántas regiones tiene Chile?
- 2 ¿En qué región vives tú?
- 3 Describe en tu cuaderno cada una de estas fotos.

Actividad 2

Escribe en tu cuaderno la fecha en que realices la actividad.

Responde en tu cuaderno las siguientes preguntas:

Lunes 31 de Agosto del
2020.

1. ¿En qué región vivimos?

R: _____

2. ¿Qué forma tiene Chile en el mapa?

R: _____

3. ¿Cuántas regiones tiene Chile?

R: _____

4. Chile y sus países vecinos:

- Al norte _____.

- Al este _____.

- Al oeste _____.

Actividad 2

Escribe en tu cuaderno la fecha en que realices la actividad.

Responde en tu cuaderno las siguientes preguntas:

Lunes 31 de Agosto del
2020.


1. Ubica con un punto rojo la región en la que vives.
2. Marca en el mapa con rojo la cordillera de los Andes.
3. Pinta con azul el océano pacífico.



Clase 3

Fecha: Semana del 19 a 23 de octubre.

Objetivo de la clase: Reconocer los distintos tipos de paisajes de Chile




Te invitamos a que observes el siguiente video para descubrir Los paisajes de Chile.



<https://www.youtube.com/watch?v=s4Af1scR53M>

Al finalizar el video preguntar:

1. ¿Cuántas zonas tiene Chile?
2. ¿Cómo es el clima en la zona norte?
3. ¿En qué zona de Chile se encuentra Santiago?



Zonas naturales de Chile



REGIONES NATURALES DE CHILE

I-II-XV TARAPACÁ, ANTOFAGASTA, ARICA Y PARINACOTA

III IV ATACAMA Y COQUIMBO

V= VALPARAISO; VI=LIBERTADOR BERNARDO
RM= REGION METROPOLITANA; VII =MAULE; VIII =BIOBIO

IX = ARAUCANIA X= LOS LAGOS;
XIV= LOS RIOS

XI= AYSÉN Y MAGALLANES
XII= LA ANTÀRTICA

Santiago de Chile



Rapa-Nui



Valparaíso



San Pedro de Atacama.



Chiloé



Torres del Paine



ELEMENTOS NATURALES DEL PAISAJE

Cordillera de los Andes



Mar



Ríos



Desierto



Actividad 1

Desarrollar páginas 88, 89 y 90 del texto del estudiante de Historia y escribe tus respuestas en tu cuaderno.

En caso de no tener el libro. Lo puede descargar con el siguiente link:

https://www.curriculumnacional.cl/614/articles-145457_recurso_pdf.pdf

LECCIÓN 3

¿Qué paisajes podemos encontrar en Chile?

En Chile tenemos distintos paisajes, algunos son naturales y otros son creados por el hombre.

Cordillera de los Andes



Desierto



Ríos



Mar



Pueblos



- 1 ¿Cómo son los paisajes de estas fotografías?

Caminos



Ciudades



- 2 ¿Qué otros paisajes podemos encontrar en Chile?
- 3 ¿A cuál de estos paisajes se parece el de tu ciudad o pueblo? Explica por qué se parece.

Paisaje: parte de un territorio que puede ser observado desde un determinado lugar.



LECCIÓN 3

En las ciudades los paisajes se mezclan. Se pueden encontrar elementos naturales y otros creados por el hombre.



Ciudad de Antofagasta.

- 1 Describe en tu cuaderno el paisaje de la imagen.
- 2 Identifica qué paisaje es natural y qué paisaje es creado por el hombre.

Actividad 2

Escribe en tu cuaderno la fecha en que realices la actividad.

Responde en tu cuaderno las siguientes preguntas:

Lunes 31 de Agosto del
2020.

1. Dibuja en tu cuaderno cómo es el paisaje de tu ciudad.

Mi ciudad.

Actividad 2

Escribe en tu cuaderno la fecha en que realices la actividad.

Responde en tu cuaderno las preguntas de la pág. 90 del libro del estudiante:

Lunes 31 de Agosto del
2020.

1. Describe el paisaje que aparece en la pág. 90 del libro.

2. Identifica del paisaje:

Elementos Naturales	Elementos Creados por el hombre

¡Prepárate!

Porque la semana del 26 al 30 de octubre tendremos nuestra evaluación de la bitácora



Solucionario Actividad Clase 1

Pág.82 y 83

1. ¿Qué representa este mapa?

R. El planeta Tierra.

2. ¿Cuántos continentes crees que existen?

R. Existen 6: África, América, Antártica, Asia, Europa y Oceanía.

3. ¿Conoces otro tipo de mapa?

R. Respuesta de carácter personal, pero podrían mencionar: mudo, político o físico.

4. ¿En qué continente está Chile?

R. América.

Solucionario Actividad Clase 2

Pág. 84 y 85

1. ¿Qué océanos ves en el mapa?

R. Océano Pacífico, océano Atlántico y océano Austral.

2. Qué hay a la izquierda de Chile

R. El océano Pacífico

3. ¿Qué forma tiene Chile?

R. Chile es largo y angosto.

4. Qué países son vecinos de Chile:

R. Los países vecinos de Chile son Argentina, Bolivia y Perú.

Pág.86

1. ¿Cuántas regiones tiene Chile?

R. 16 regiones.

2. ¿En qué región vives tú?

R. Respuesta dependerá de cada estudiante.

3. Describe en tu cuaderno cada uno de estos lugares.

R. Respuesta variada.

Desierto de Atacama: tiene mucha tierra sin vegetación.

Chiloé: está rodeada de mar.

Valles centrales: tienen cerros y vegetación.

Cordillera de los Andes: tiene montañas, piedras y nieve.

Solucionario

Actividad

Clase 3

Pág.89

1. ¿Cómo son los paisajes de estas fotografías?

R. Las respuestas variarán según el nivel de detalle que den los estudiantes. Pueden mencionar: montañas cubiertas de nieve, lugar seco con arena, agua corriendo por un curso, zonas donde viven pocas personas, zonas donde vive mucha gente, campo, lugares donde transitan personas.

2. ¿Qué otros paisajes podemos encontrar en Chile?

R. Pueden mencionar: glaciares, bosques, lagos, playas, etc.

3. ¿A cuál de estos paisajes se parece el de tu ciudad o pueblo? Explica por qué se parece.

R. Las descripciones dependerán del lugar donde viven sus estudiantes, sin embargo, es importante que puedan reconocer elementos como los mencionados.

Pág. 90

1. Describe en tu cuaderno el paisaje de la imagen.

R. En el paisaje se ve una ciudad que se ubica en un lugar seco, ya que los cerros se encuentran sin vegetación verde como se podría encontrar en el sur de Chile; además se ubica junto al océano, y como es una ciudad de Chile, ese océano es el Pacífico.

2. Identifica qué paisaje es natural y qué paisaje es creado por el hombre.

R. Dentro del paisaje natural se encuentran los árboles, la arena y el mar; dentro de los elementos creados por el hombre se encuentran los edificios, el estadio, las casas o los caminos.